



# New-York, toile d'araignée urbaine?



1. **Localise et situe** à l'échelle mondiale et régionale la ville de **New-York**.

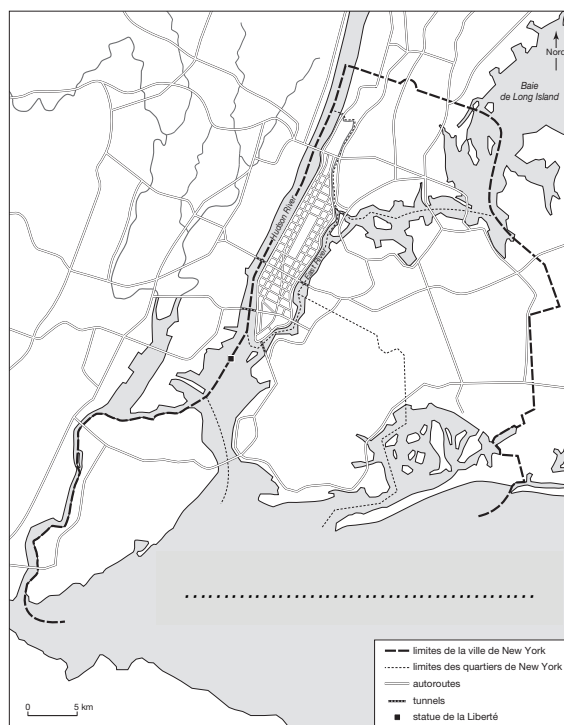
Latitude: .....	Façade littorale: .....
Longitude: .....	État américain: .....
Continent: .....	États américains voisins: .....
Pays: .....	

2. **Identifie l'arrondissement** dans lequel tu te trouves à l'aide du document 1:





.....

3. Sur la carte ci-contre (©Hatier, 2018):

- Surligne** les limites de la ville de New York
- Colorie et nomme** l'arrondissement dans lequel Miles Morales se trouve
- Nomme** la façade océanique
- Indique le **nom d'un état** américain **voisin** de celui de New-York
- Colorie en bleu le cours d'eau qui trouve son l'embouchure à New-York



4. A l'aide des documents 4 à 7 et de Miles Morales, **décris la répartition de la population** dans la métropole new-yorkaise:

Particularités des quartiers	Noms des quartiers	Indices relevés à l'aide de Miles
a) Quartier(s) où les <b>revenus</b> sont les plus <b>élevés</b> : 	..... ..... .....	..... ..... .....
b) Quartier(s) où les <b>revenus</b> sont les <b>moins élevés</b> : 	..... ..... .....	..... ..... .....
c) Quartier(s) où les New-Yorkais vont plutôt travailler ( <b>centre des affaires</b> de la ville): 	..... ..... .....	..... ..... .....
d) <b>Quartiers</b> les plus <b>résidentiels</b> de New-York: 	..... ..... .....	..... ..... .....

5. Les QG des **Undergrounds** se localisent dans le **quartier le moins favorisé** de l'arrondissement, localise ce quartier en t'aidant du document 4.

- a) Entoure ce quartier sur la carte ci-contre,
- b) Nomme-le: .....
- c) Justifie ton choix:



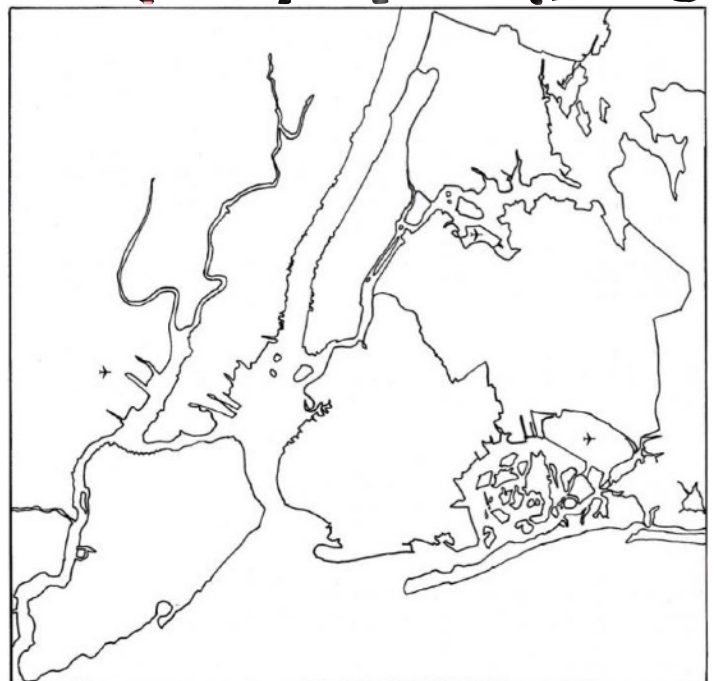
À l'aide du document ..... et des observations de Miles M., j'apprends que

.....  
 .....  
 .....  
 .....

d) Indique sa position par rapport au centre ville en utilisant les directions cardinales:

Ce quartier se situe...

- au centre-ville       à l'est de la ville
- au nord de la ville       au sud de la ville
- à l'ouest de la ville



5. Les *Undergrounds* se déplacent en utilisant **les transports en commun** mais aussi dans leurs véhicules privés. A l'aide de Miles, dresse **l'inventaire des transports** disponibles à New-York et **schématise l'organisation de la ville** sous la forme d'un plan ....

a) **Coche les modes de transports disponibles à New-York:**

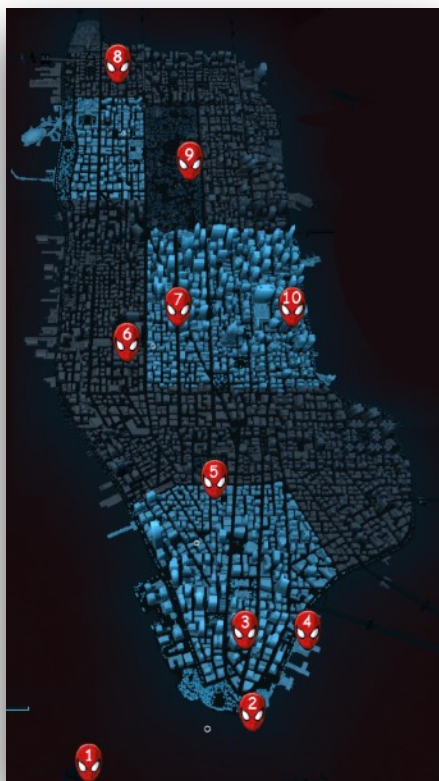
- |                             |                               |                                        |                                   |
|-----------------------------|-------------------------------|----------------------------------------|-----------------------------------|
| <input type="radio"/> Tram  | <input type="radio"/> Train   | <input type="radio"/> Métro            | <input type="radio"/> Trolley-Bus |
| <input type="radio"/> Bus   | <input type="radio"/> Taxi    | <input type="radio"/> Navette fluviale | <input type="radio"/> Voiture     |
| <input type="radio"/> Drone | <input type="radio"/> Calèche | <input type="radio"/> Avion / Aéroport | <input type="radio"/> Hélicoptère |



b) Schématise l'organisation de la ville sous la forme d'un plan qui comprend les **axes de communication** et les **différents quartiers**.




6. Dans le but d'être capable de protéger au mieux la population new-yorkaise des agressions des Undergrounds, **identifie les différentes fonctions et occupations du sol** des différents points de la ville qui te sont indiqués sur la carte.




**Rappel des principales fonctions et occupations du sol caractéristiques :**

- **fonction résidentielle** : par exemple, maison/immeuble à appartements, immeubles jointifs, habitat en lotissement ou le long des routes, maison 4 façades ;
- **fonction commerciale** : par exemple, magasin, rue commerçante et marché, centre commercial et grande surface, café/restaurant ;
- **fonction industrielle** : par exemple, usine, parc industriel ;
- **fonction agricole** : par exemple, ferme, champ, prairie, bois, verger, potager ;
- **autres fonctions** : par exemple, loisirs, soins, cinéma/ théâtre/ centre culturel, hôtel de ville ou maison communale, hôpital, terrain ou hall de sport, parc d'activités, lieu de culte, espace vert et cimetière.

	Nom du lieu	Nature de la fonction	Précision (voir exemples)
1	.....	.....	.....
2	.....	.....	.....
3	Manhattan, centre des affaires	.....	.....
4	.....	.....	.....
5	.....	.....	.....
6	.....	.....	.....
7	Time Square	.....	.....
8	Harlem	.....	.....
9	.....	.....	.....
10	.....	.....	.....



7. Synthèse: Réalise une coupe schématique de la métropole de New-York en t'aidant des documents 8 à 10 et en respectant l'axe proposé ci-contre.



Titre: .....

← Gauche Droite →

---





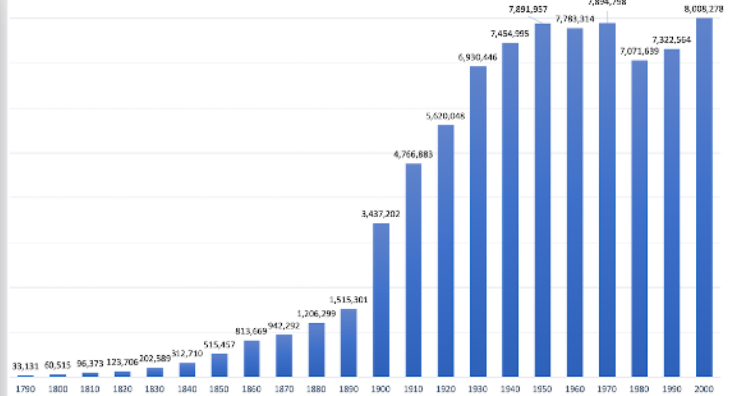


# Dossier documentaire: New-York avec Miles Morales

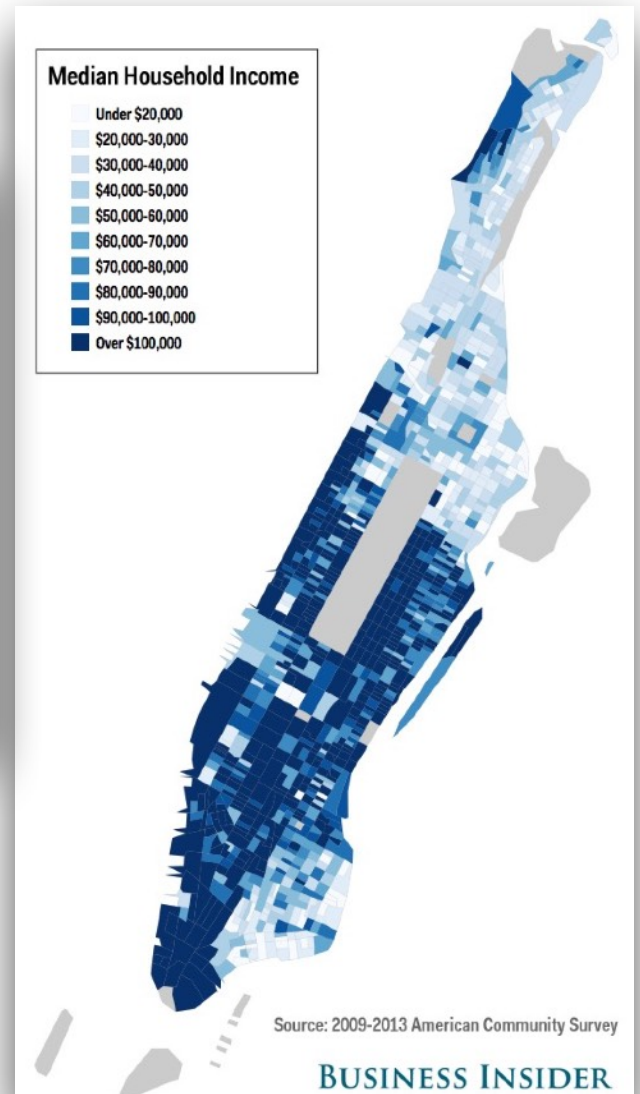
**Document 1: Carte des arrondissements de la ville de New York** (©gifex.com, 2023)



**Document 2: Graphique de l'évolution de la population de la ville de New-York entre 1790 et 2000** (selon les données du « NYC Department of City Planning »).



**Document 4: Carte des revenus moyens annuels des habitants de Manhattan** (©American Community Survey, pour les années 2009 à 2013)



**Document 3: Carte de l'état de New York** (©national atlas.gov, 2023)

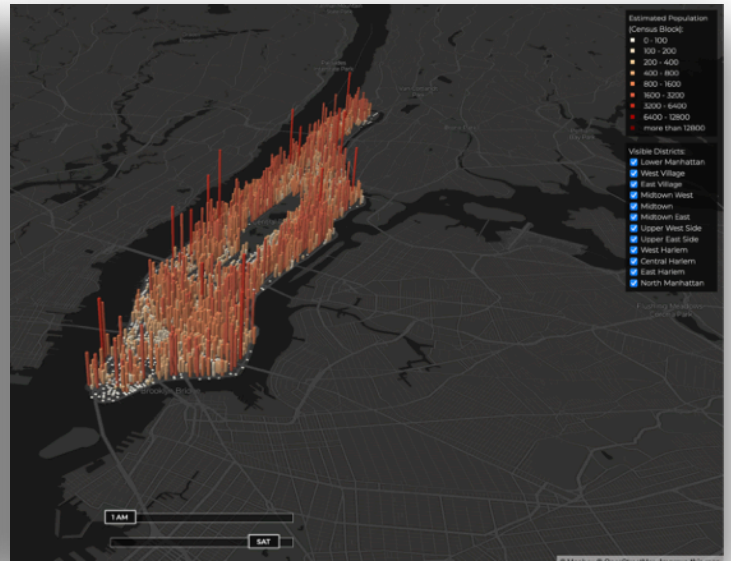
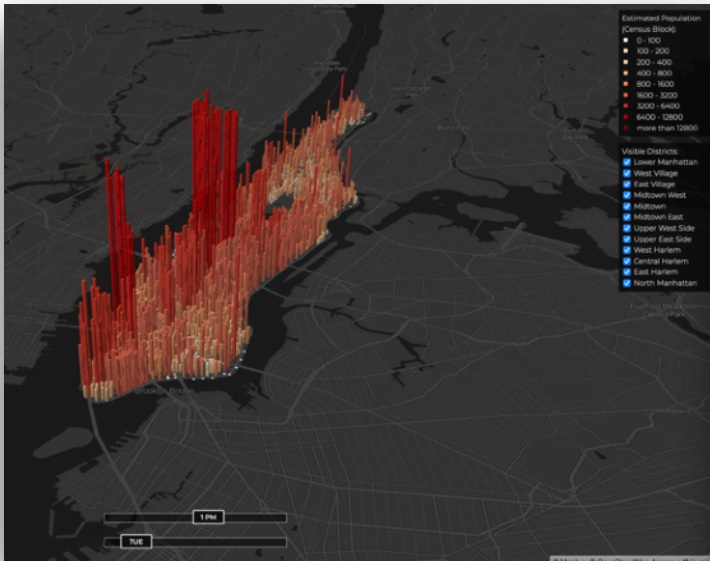


**Document 5: Carte des quartiers de Manhattan** (©Partir-New-York.com, 2023)



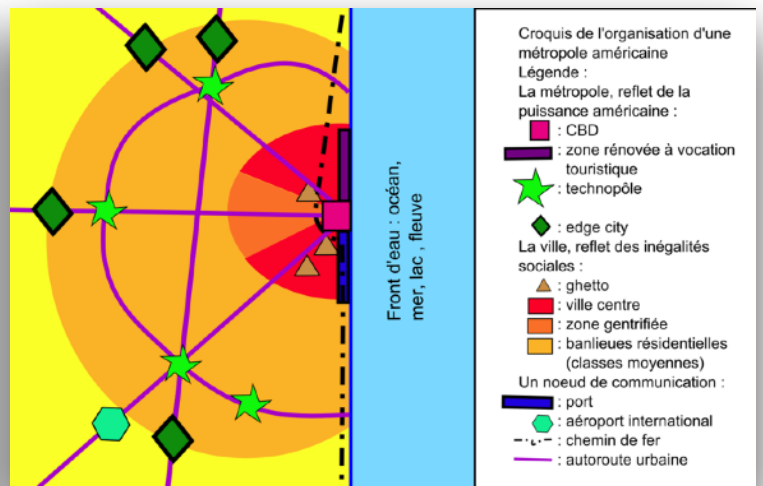
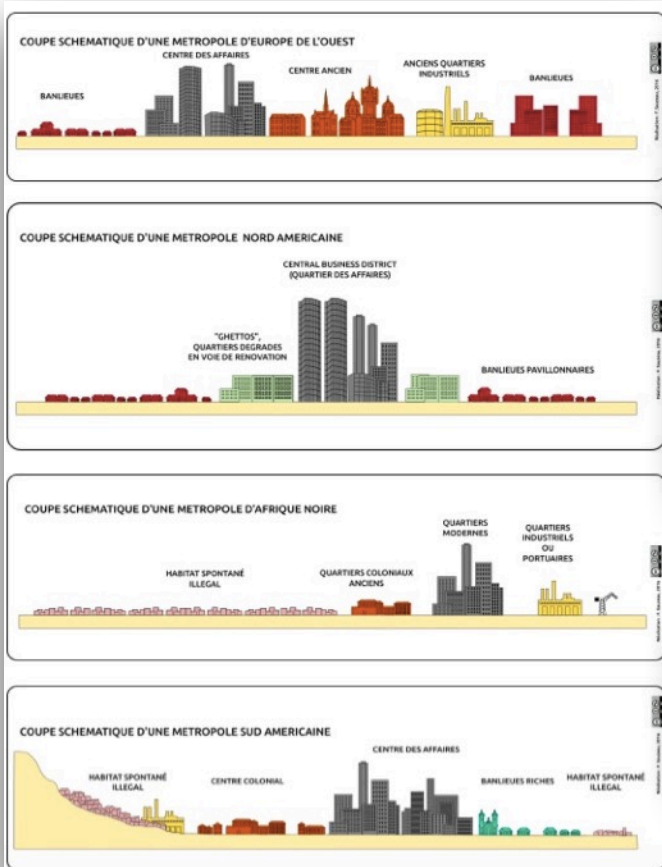
**Document 6: Carte de la densité de population dans Manhattan le mardi à 13h**  
 (©Manhattan population explorer, disponible sur manpopex.us, 2023)

**Document 7: Carte de la densité de population dans Manhattan le samedi à 01h**  
 (©Manhattan population explorer, disponible sur manpopex.us, 2023)

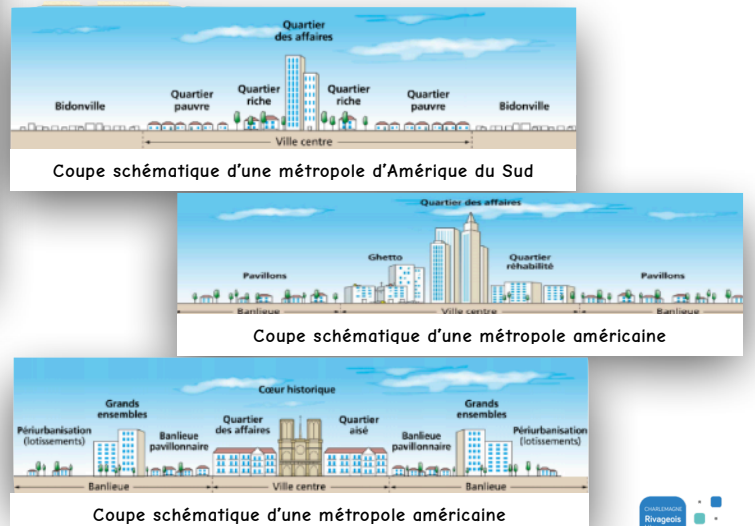


**Document 8: Coupes schématiques de métropoles types** (Source: Balet, A., 2023, [laclassehistoire.fr](http://laclassehistoire.fr))

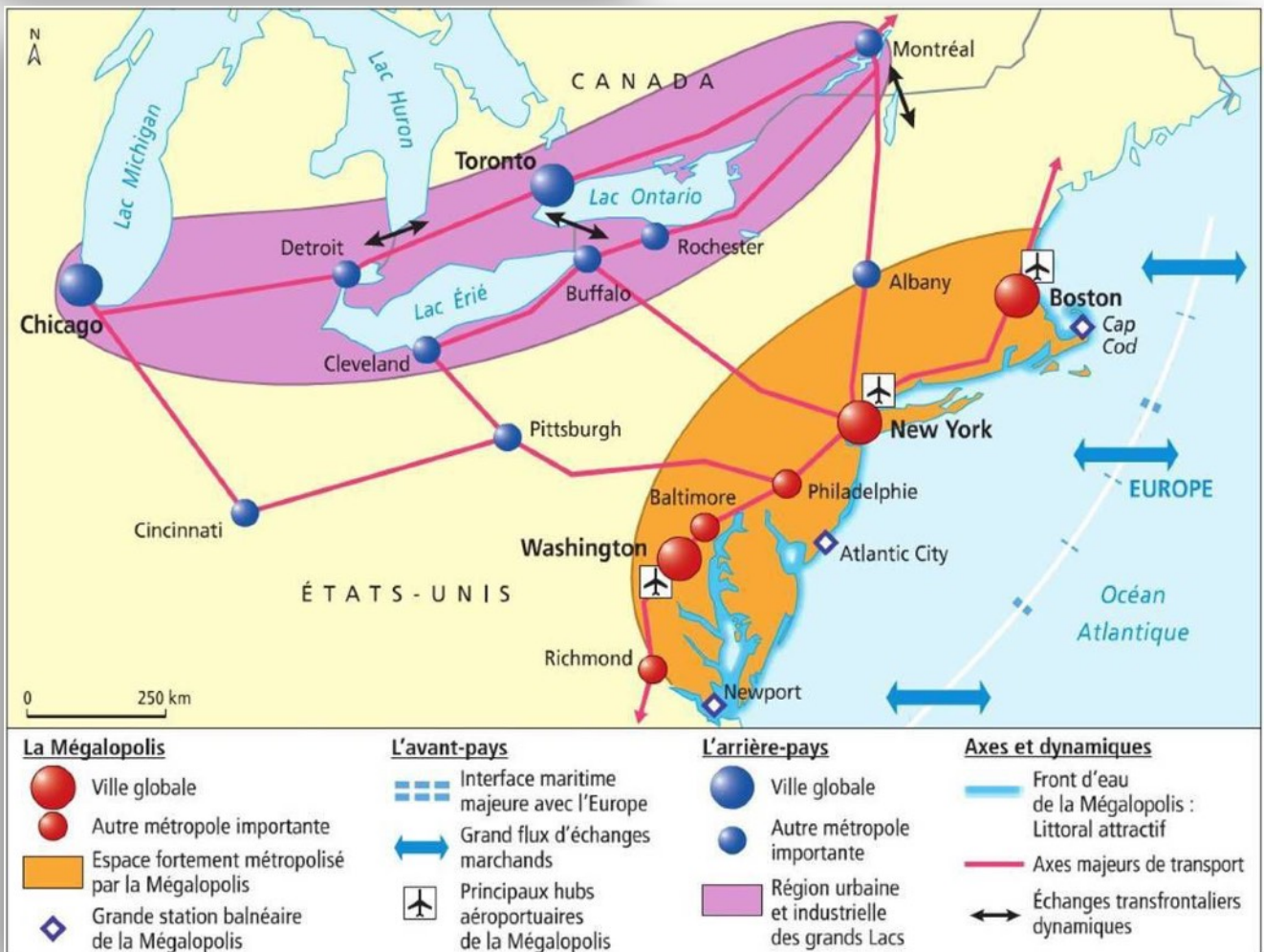
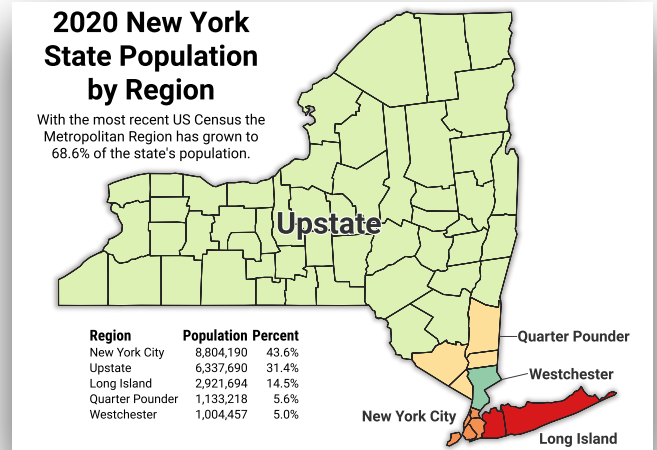
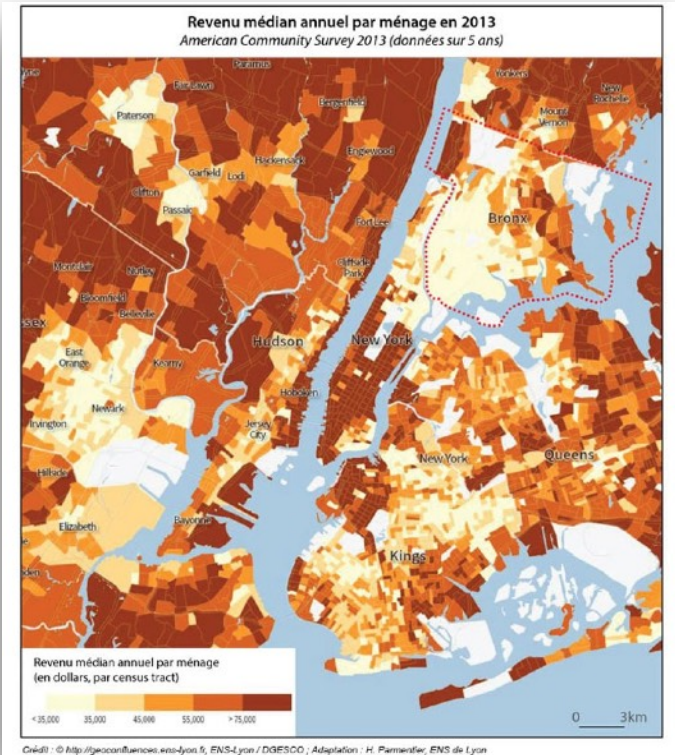
**Document 9: Croquis d'une métropole américaine** (© Urban, 2009, disponible sur Wikipedia)



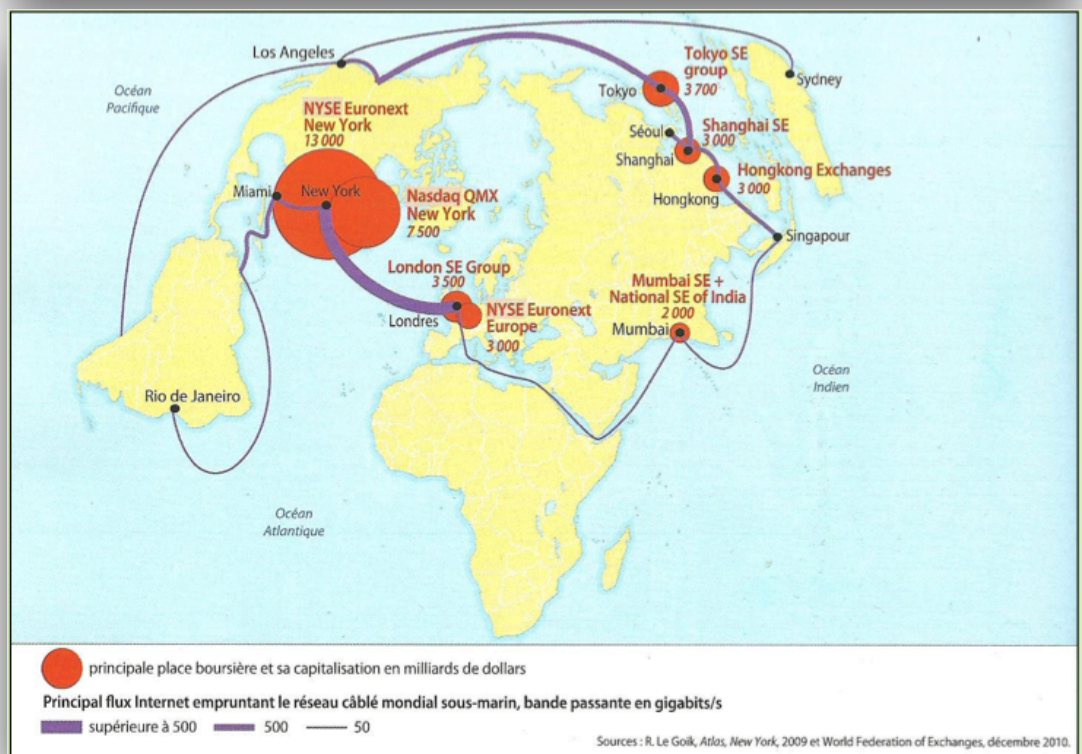
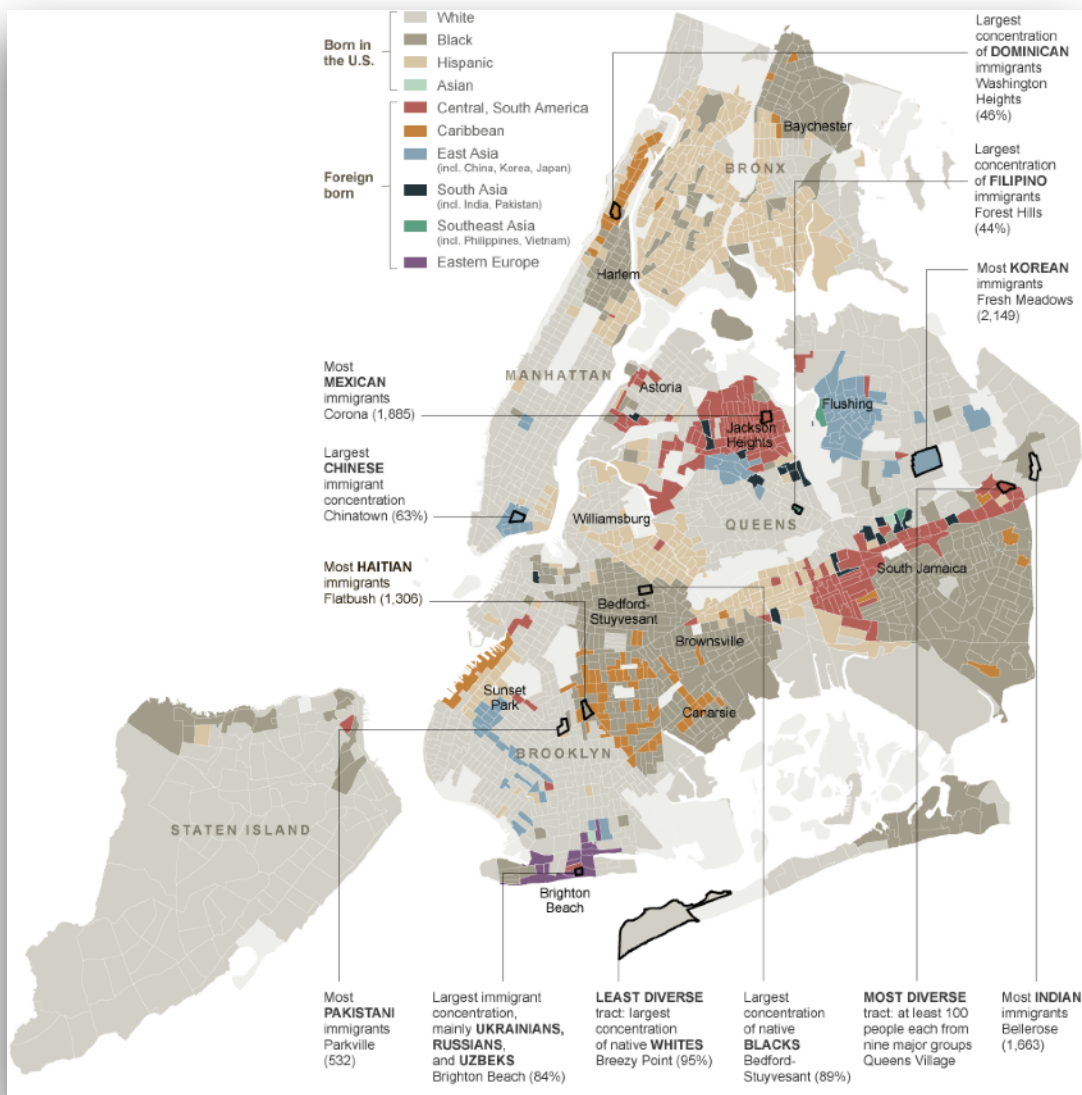
**Document 10: Coupes schématiques de métropoles types** (©Manuel Hatier)



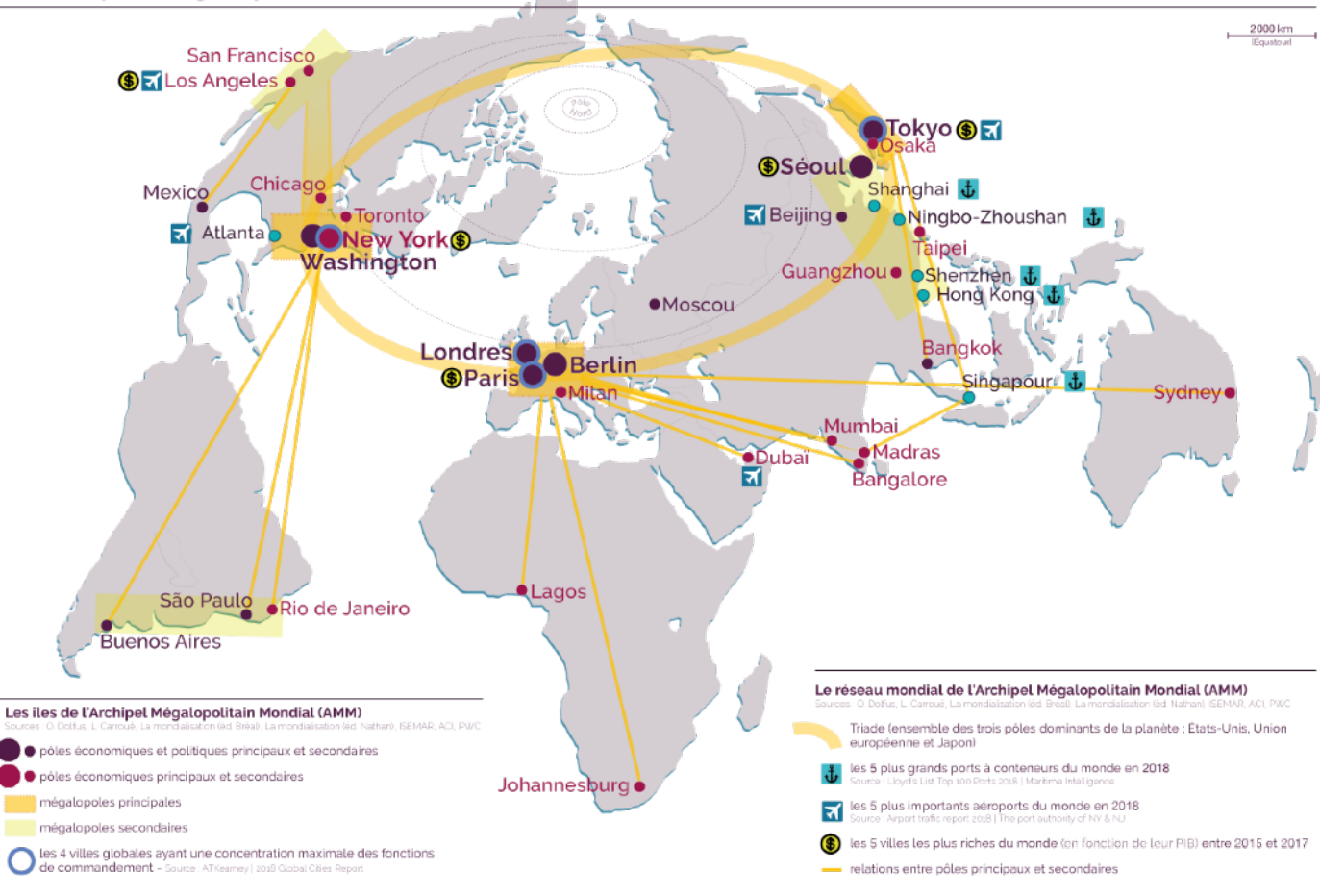








### L'archipel mégalopolitain mondial



Source: Maxicours, <https://www.maxicours.com/se/cours/les-metropoles-des-territoires-au-coeur-de-la-mondialisation/>

