



# New-York, toile d'araignée urbaine?



1. **Localise et situe** à l'échelle mondiale et régionale la ville de **New-York**.

Latitude: <b>40 degrés nord</b>	Façade littorale: <b>Côte Est, océan Atlantique Nord</b>
Longitude: <b>74 degrés ouest</b>	État américain: <b>New-York</b>
Continent: <b>Amérique du Nord</b>	États américains voisins: <b>New-Jersey, Vermont, Massachusetts, Pennsylvanie, Connecticut</b>
Pays: <b>États-Unis d'Amérique</b>	

2. **Identifie l'arrondissement** dans lequel tu te trouves à l'aide du document 1:





**Manhattan**

3. Sur la carte ci-contre (©Hatier, 2018):

- Surligne** les limites de la ville de New York
- Colorie et nomme** l'arrondissement dans lequel Miles Morales se trouve
- Nomme** la façade océanique
- Indique le **nom d'un état** américain **voisin** de celui de New-York
- Colorie en bleu le cours d'eau qui trouve son l'embouchure à New-York



4. A l'aide des documents 4 à 7 et de Miles Morales, **décris la répartition de la population** dans la métropole new-yorkaise:

<u>Particularités des quartiers</u>	<u>Noms des quartiers</u>	<u>Indices relevés à l'aide de Miles</u>
a) Quartier(s) où les <b>revenus</b> sont les plus <b>élevés</b> : 	<b>Financial district...</b>	..... ..... .....
b) Quartier(s) où les <b>revenus</b> sont les <b>moins élevés</b> : 	<b>Harlem, East Village, Little Italy, China Town...</b>	<b>Habitat plus vétuste et ancien, immeubles moins hauts, anciens bâtiments industriels, graffitis...</b>
c) Quartier(s) où les New-Yorkais vont plutôt travailler ( <b>centre des affaires</b> de la ville): 	<b>Times Square, Financial district</b>	<b>Bureaux et magasins -&gt; Administratif et commercial</b>
d) <b>Quartiers</b> les plus <b>résidentiels</b> de New-York: 	<b>9 états: voir doc 7</b>	<b>Immeubles et buildings à appartements</b>

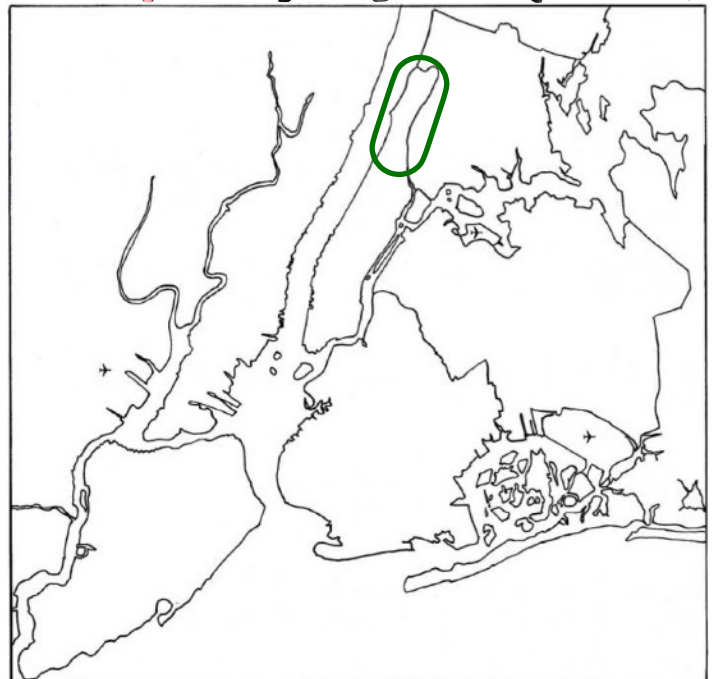
5. Les QG des **Undergrounds** se localisent dans le **quartier le moins favorisé** de l'arrondissement, localise ce quartier en t'aidant du document 4.

- a) Entoure ce quartier sur la carte ci-contre,
- b) Nomme-le: **Harlem**
- c) Justifie ton choix:



À l'aide du document ..... et des observations de Miles M., j'apprends que **Les revenus y sont moins élevés, l'habitat plus vétuste et moins luxueux, certains bâtiments sont tagués...**

- d) Indique sa position par rapport au centre ville en utilisant les directions cardinales:



Ce quartier se situe...

- au centre-ville
- à l'est de la ville
- au nord de la ville**
- au sud de la ville
- à l'ouest de la ville



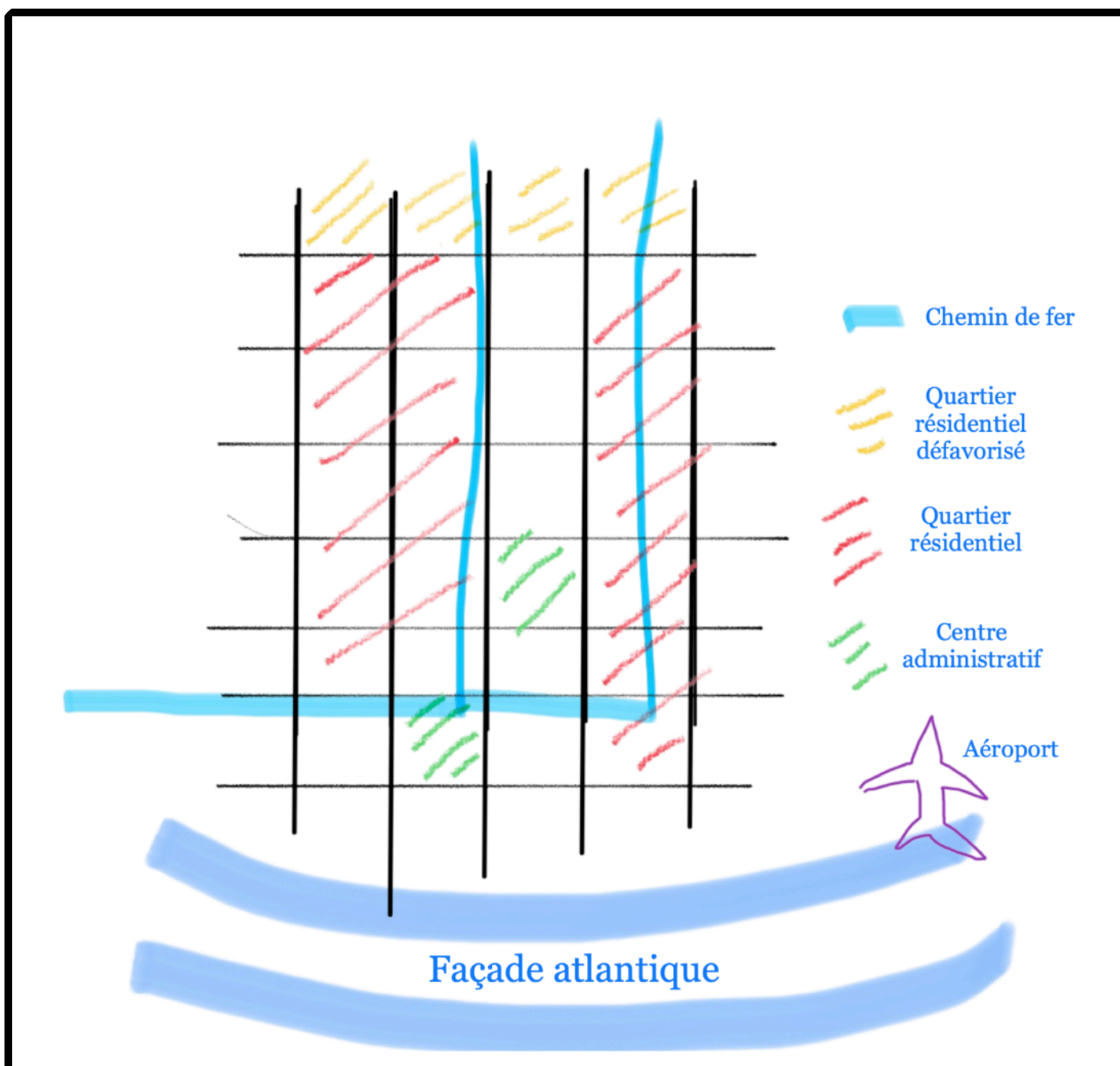
5. Les *Undergrounds* se déplacent en utilisant **les transports en commun** mais aussi dans leurs véhicules privés. A l'aide de Miles, dresse **l'inventaire des transports** disponibles à New-York et **schématise l'organisation de la ville** sous la forme d'un plan ....



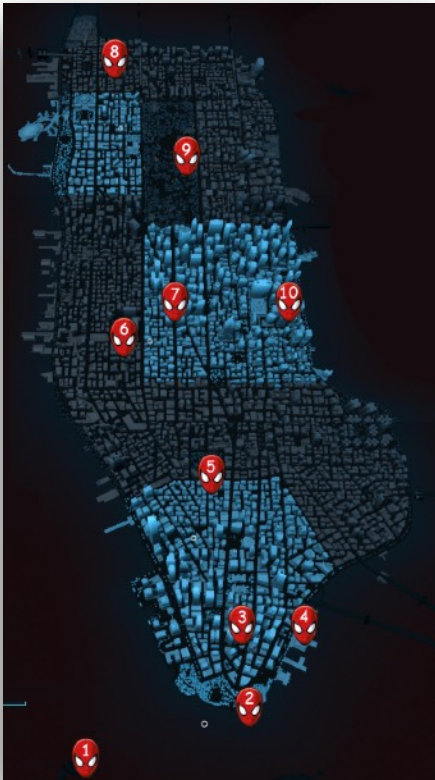
a) **Coche les modes de transports disponibles à New-York:**

- Tram     **Train**     **Métro**     Trolley-Bus
- Bus**     **Taxi**     **Navette fluviale**     **Voiture**
- Drone     Calèche     **Avion / Aéroport**     **Héliport**

b) Schématise l'organisation de la ville sous la forme d'un plan qui comprend les **axes de communication** et les **différents quartiers**.




6. Dans le but d'être capable de protéger au mieux la population new-yorkaise des agressions des Undergrounds, **identifie les différentes fonctions et occupations du sol** des différents points de la ville qui te sont indiqués sur la carte.



**Rappel des principales fonctions et occupations du sol caractéristiques :**


- **fonction résidentielle** : par exemple, maison/immeuble à appartements, immeubles jointifs, habitat en lotissement ou le long des routes, maison 4 façades ;
- **fonction commerciale** : par exemple, magasin, rue commerçante et marché, centre commercial et grande surface, café/restaurant ;
- **fonction industrielle** : par exemple, usine, parc industriel ;
- **fonction agricole** : par exemple, ferme, champ, prairie, bois, verger, potager ;
- **autres fonctions** : par exemple, loisirs, soins, cinéma/ théâtre/ centre culturel, hôtel de ville ou maison communale, hôpital, terrain ou hall de sport, parc d'activités, lieu de culte, espace vert et cimetière.

	Nom du lieu	Nature de la fonction	Précision (voir exemples)
1	Statue de la Liberté	Touristique et culturelle	
2	Pointe de Manhattan	Touristique et culturelle	Parc, point de vue et mémorial
3	Manhattan, centre des affaires		
4	Docks	Industrielle	Port, quai...
5	.....		
6	Madison Square Garden		Sports (NBA, Hockey..) et spectacles
7	Time Square	Commerciale et administrative	
8	Harlem	Résidentielle, commerciale	
9	Central Park	Loisirs et culturel	Parc, musées, université...
10	Siège de l'ONU	Administrative	





7. Synthèse: Réalise une coupe schématique de la métropole de New-York en t'aidant des documents 8 à 10 et en respectant l'axe proposé ci-contre.

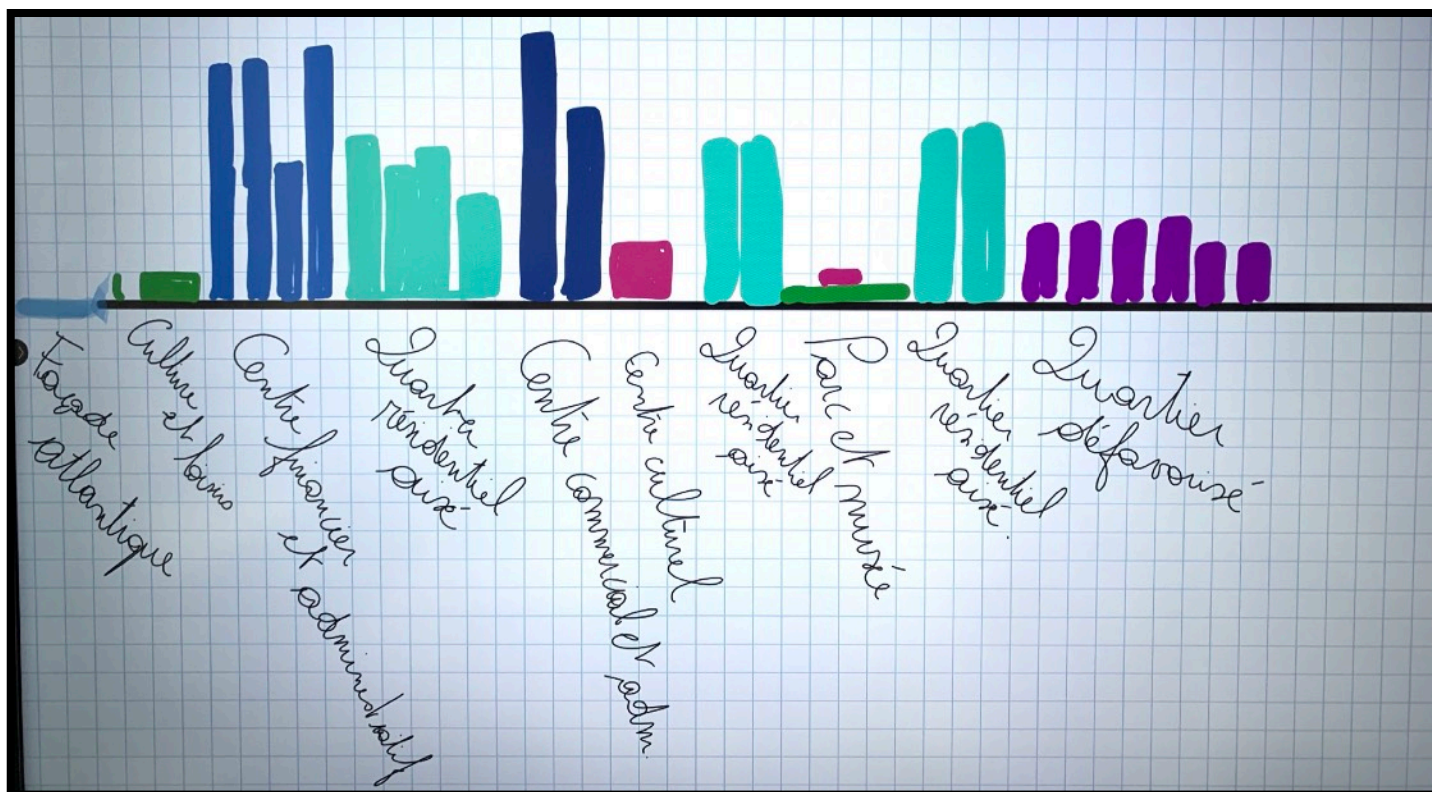


Titre:

Coupe schématique des différents quartiers de Manhattan (arrondissement de la ville de New York)

Gauche

Droite



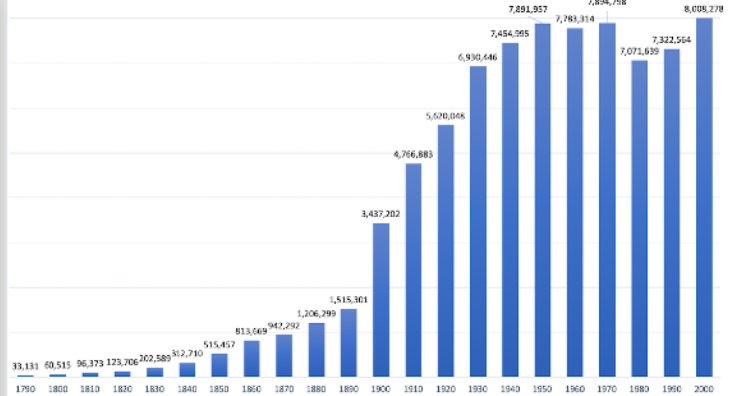


# Dossier documentaire: New-York avec Miles Morales

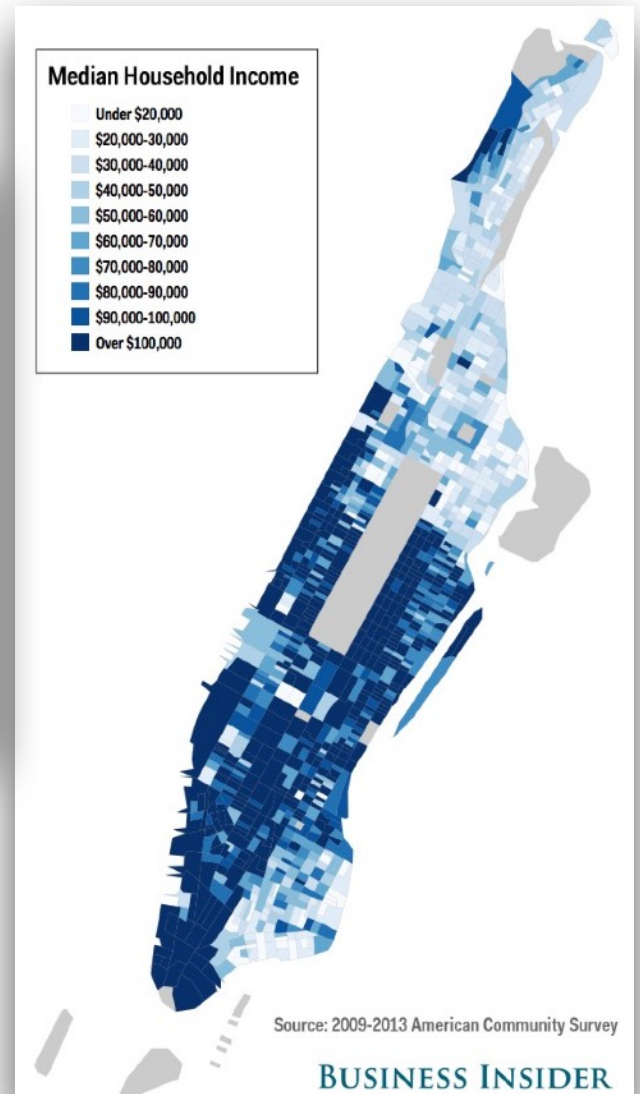
**Document 1: Carte des arrondissements de la ville de New York** (©gifex.com, 2023)



**Document 2: Graphique de l'évolution de la population de la ville de New-York entre 1790 et 2000** (selon les données du « NYC Department of City Planning »).



**Document 4: Carte des revenus moyens annuels des habitants de Manhattan** (©American Community Survey, pour les années 2009 à 2013)



**Document 3: Carte de l'état de New York** (©national atlas.gov, 2023)



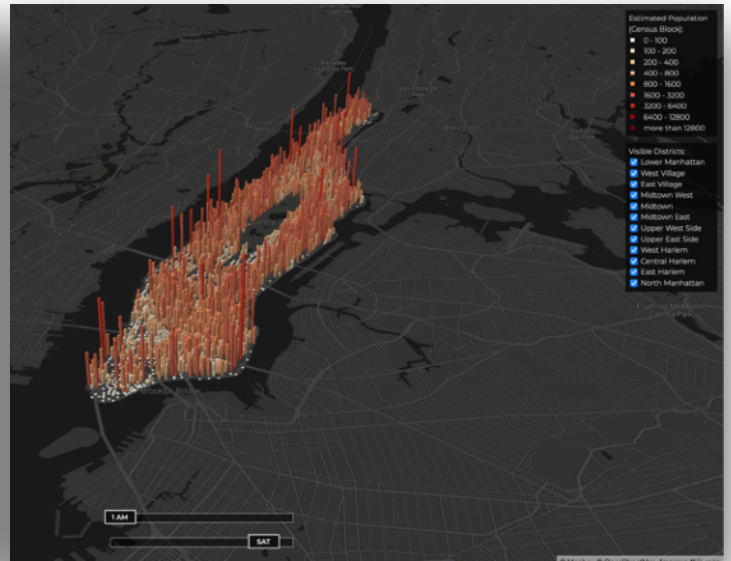
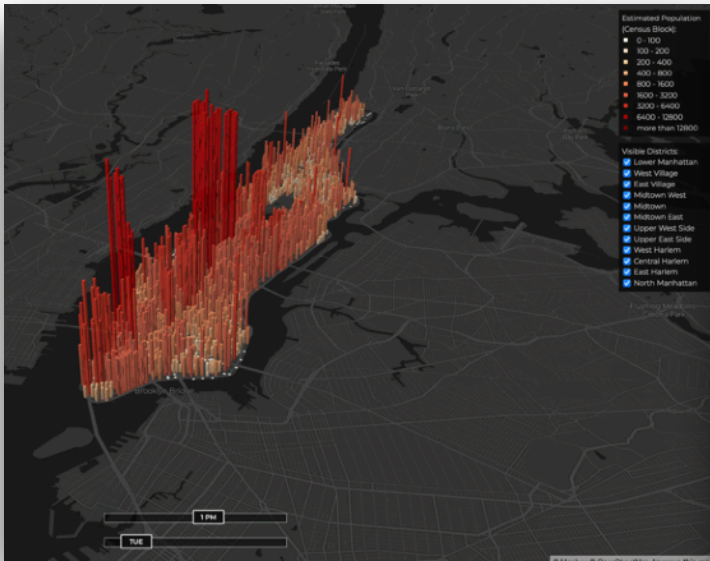
**Document 5: Carte des quartiers de Manhattan** (©Partir-New-York.com, 2023)





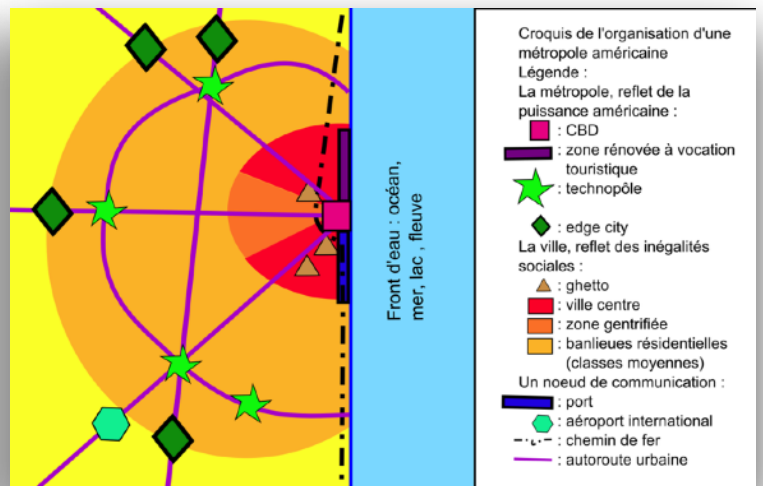
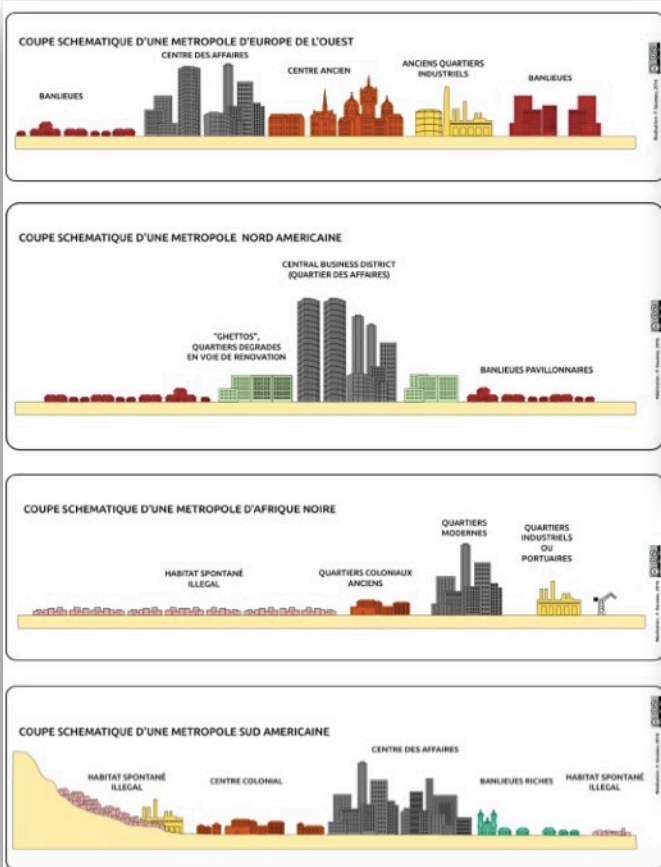
**Document 6: Carte de la densité de population dans Manhattan le mardi à 13h**  
 (©Manhattan population explorer, disponible sur manpopex.us, 2023)

**Document 7: Carte de la densité de population dans Manhattan le samedi à 01h**  
 (©Manhattan population explorer, disponible sur manpopex.us, 2023)

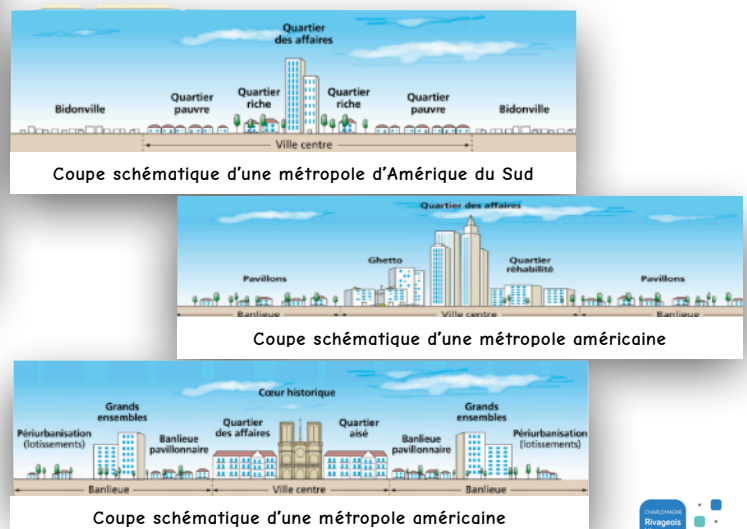


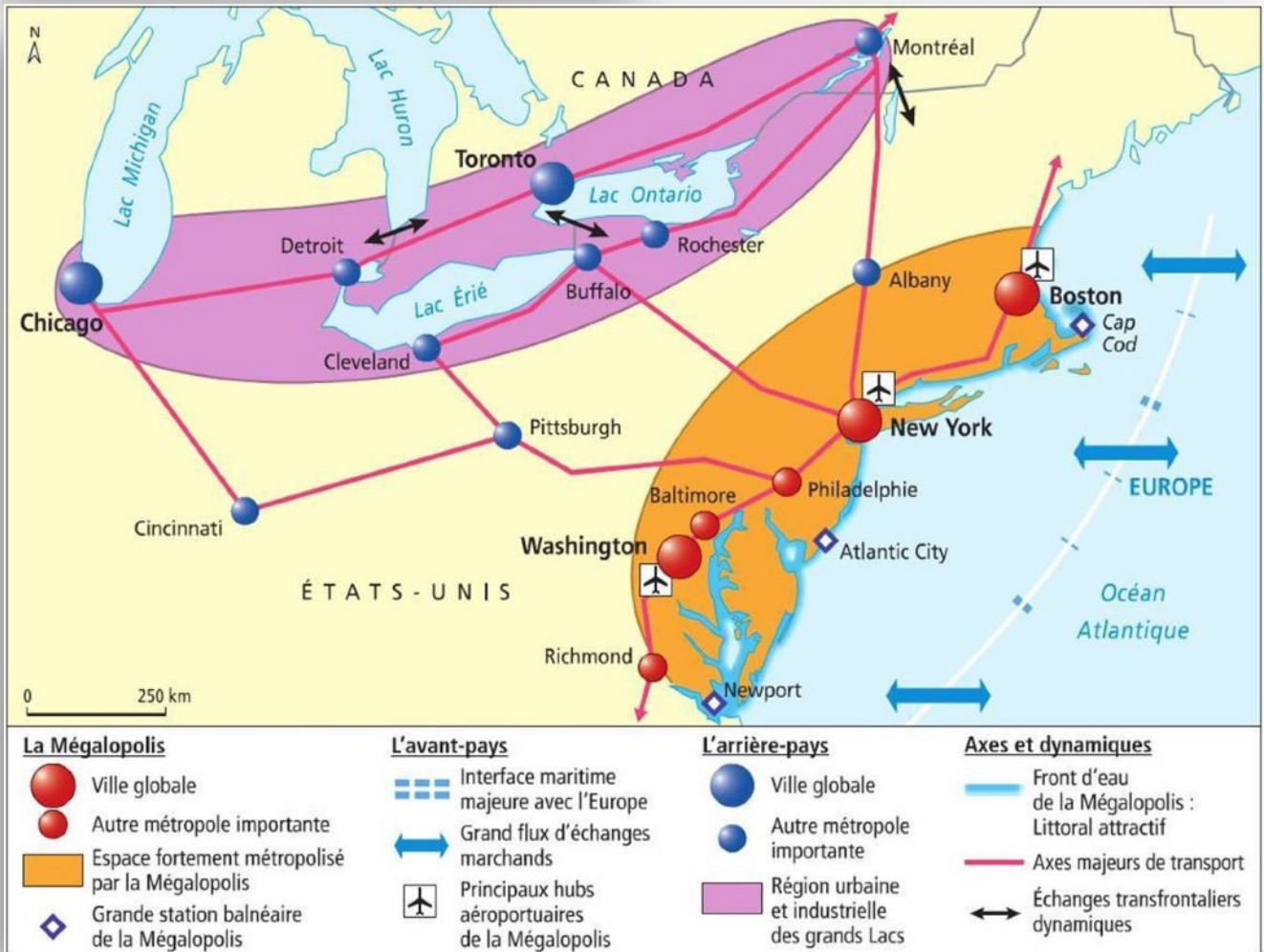
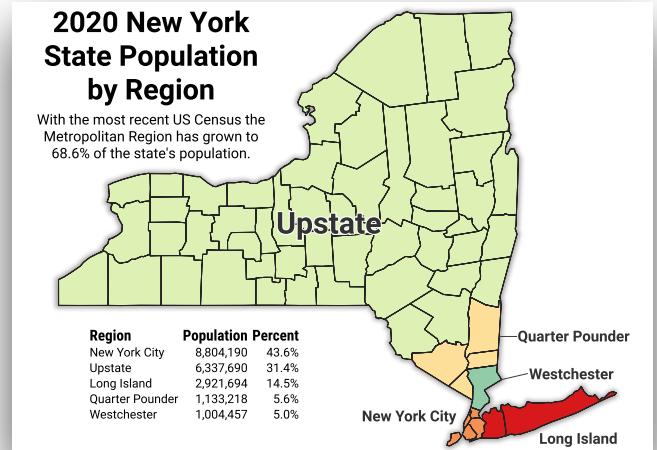
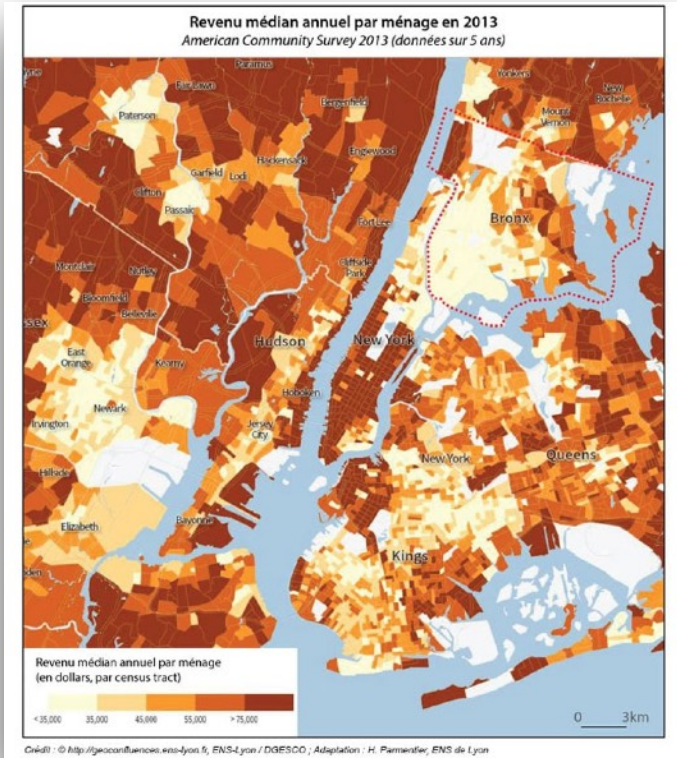
**Document 8: Coupes schématiques de métropoles types** (Source: Balet, A., 2023, [laclassehistoire.fr](http://laclassehistoire.fr))

**Document 9: Croquis d'une métropole américaine** (© Urban, 2009, disponible sur Wikipedia)

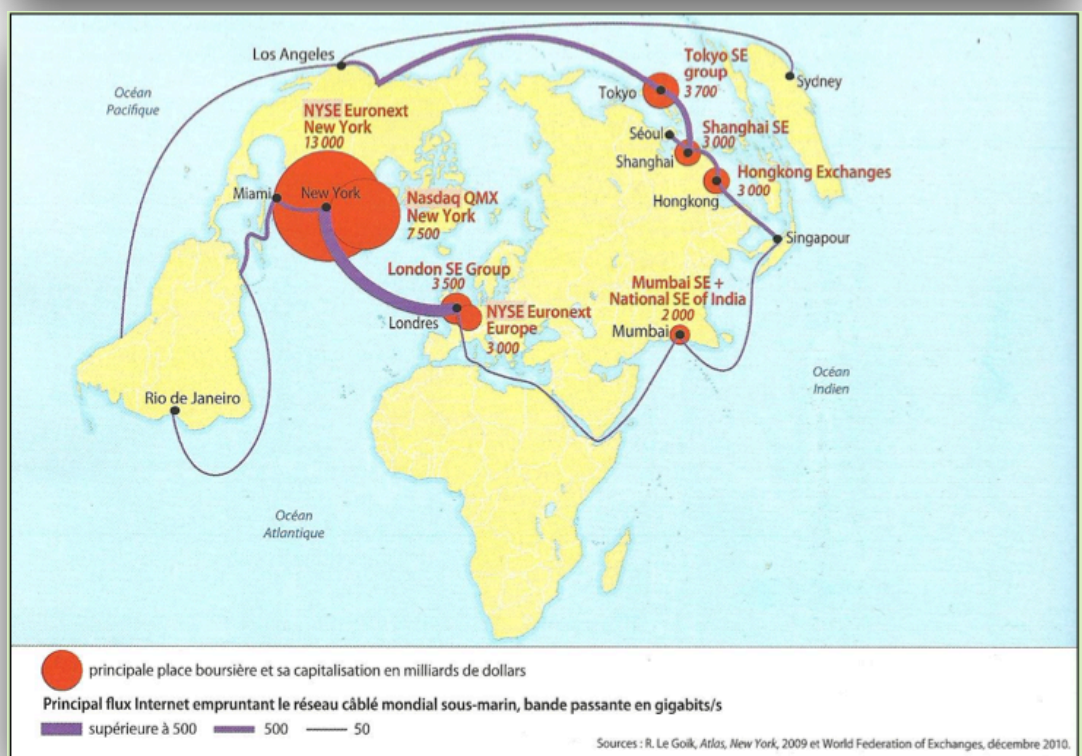
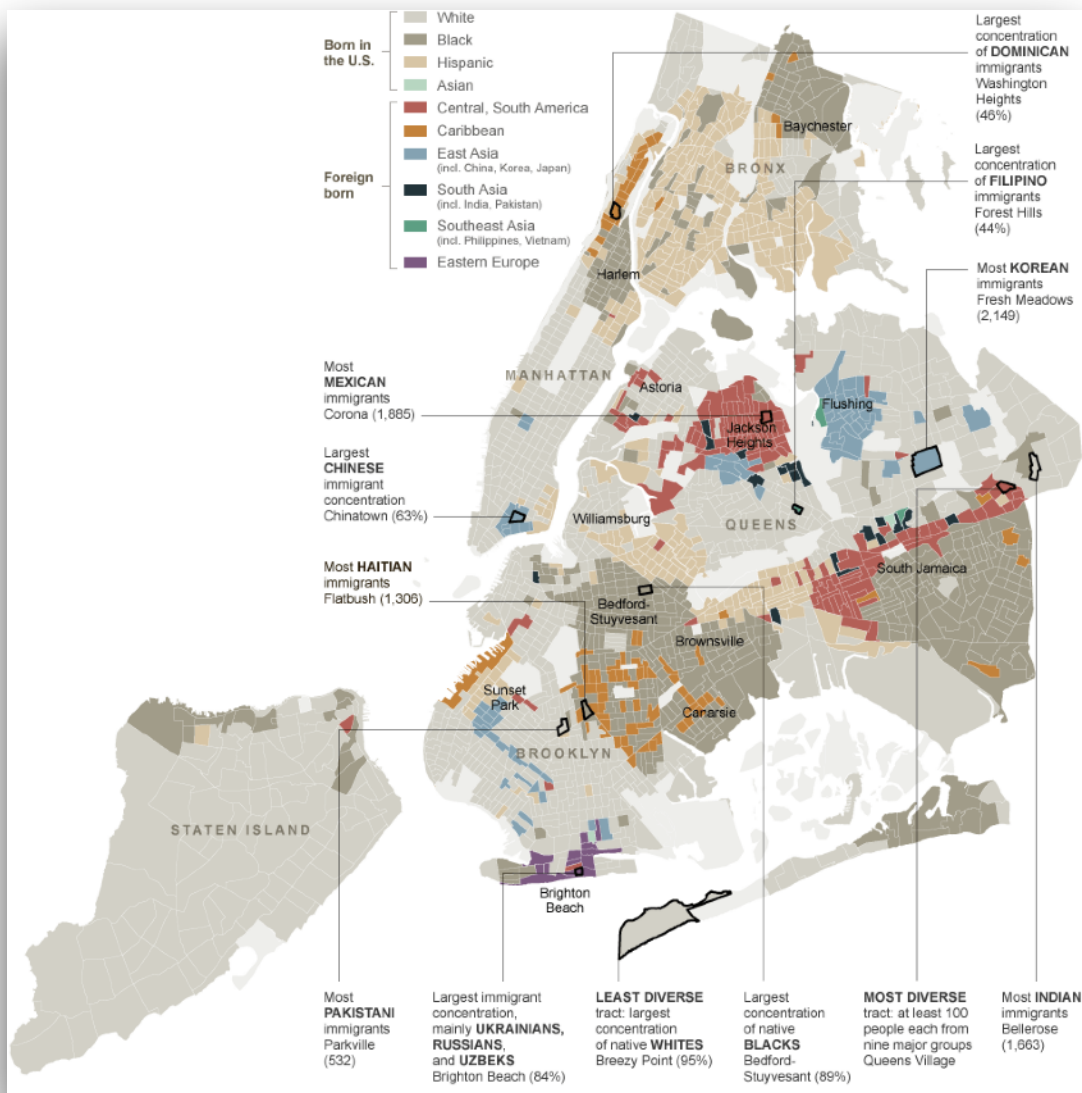


**Document 10: Coupes schématiques de métropoles types** (©Manuel Hatier)

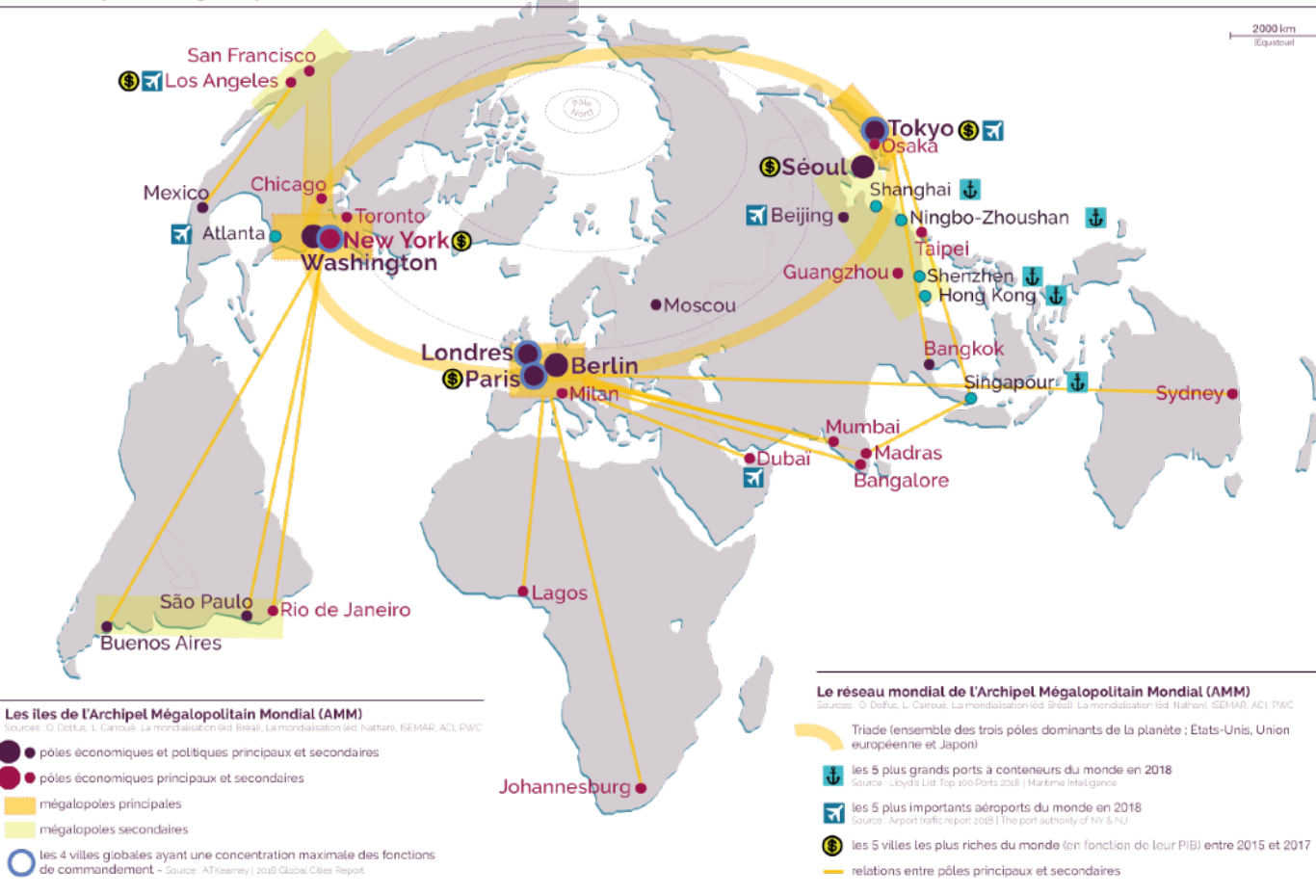








## L'archipel mégalopolitain mondial



Source: Maxicours, <https://www.maxicours.com/se/cours/les-metropoles-des-territoires-au-coeur-de-la-mondialisation/>

